

1-

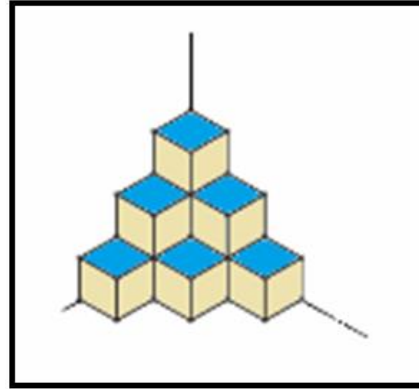
KARS	}	}	4236
PARS			1234
SARP			4235
SARI			5234
SALI			4276

KALIP=?

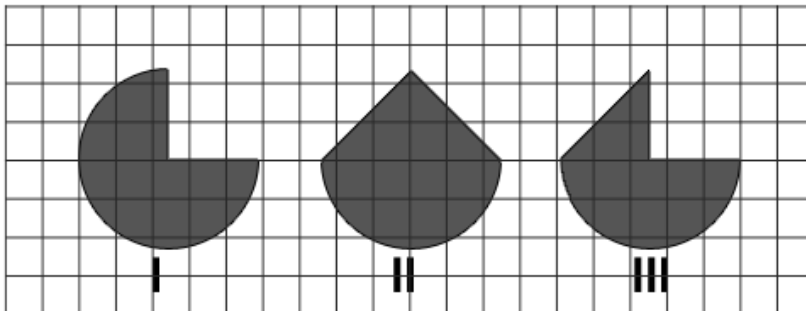
- A) 12764 B) 12765 C) 13764 D) 13765 E) 14765

2- Şekildeki yapı kaç küpten oluşmaktadır?

- A) 13 B) 12  
C) 11  D) 10  
E) 9



3- Birbirine eş üç dairesel bölgeden farklı parçalar çıkarılarak kareli kağıt üzerinde verilen yukarıdaki şekiller elde edilmiştir. Bu şekillerin çevre uzunluklarına göre küçükten büyüğe doğru sıralanışı aşağıdakilerden hangisidir?



- A) III < II < I  B) II < III < I C) I < II < III D) II < I < III

4- 0, 4, 16, 48, ?

- A) 64 B) 68 C) 96 D) 124 **E) 128**

5-

I.  $5 \odot 4 = 10$

II.  $6 \odot 8 = 37$

III.  $7 \odot 5 = 23$

IV.  $8 \odot 3 = 11$

V.  $9 \odot 12 = ?$

- A) 64 B) 74 C) 84 **D) 94** E) 104

6-

⊗	⊙	⊖	⊗	⊕	⊙
⊙	⊖	⊕	□	⊙	⊗
⊕	⊙	⊗	⊙	⊕	⊙
⊖	⊗	⊖	⊕	⊗	⊖
⊙	⊕	⊙	⊕	⊕	⊗
⊕	□	⊗	⊙	□	⊖

I.

<i>K</i>	<i>L</i>
	<i>K</i> <i>L</i>

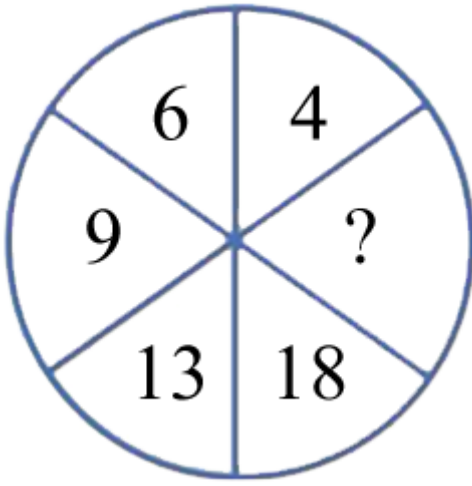
II.

<i>K</i>	<i>M</i>
<i>M</i>	<i>L</i>

I ve II, yukarıdaki tablonun deęişik konumlarındaki birer parçasıdır.  $K = \text{⊞}$  ve  $L = \text{⊗}$  ise  $M = ?$

- A)  $\ominus$    B)  $\odot$    C)  $\odot$    D)  $\text{⊞}$    E)  $\text{⊞}$

7) Aşağıdaki şekilde, soru işareti ' ? ' geldiđi alana hangi sayı gelmelidir?



- A) 5  
B) 4  
C) 3  
D) 2  
E) 1